

PRÉNOM _____
 DATE __ / __ / __

NIVEAU 5-6

TYPE ACT

CAT CH

Cantons | Suisse Romande



LA SUISSE ROMANDE

EN GÉNÉRAL ...



1. Releve les 4 cantons entièrement romands.

1. _____
2. _____
3. _____
4. _____

2. Releve les 3 cantons bilingues allemand-français.

5. _____
6. _____
7. _____

3. Quelles sont les 3 autres langues parlées en Suisse ?

- _____
- _____
- _____

A propos de la Suisse Romande ...

La Suisse romande couvre l'ouest du pays et compte environ 1,48 million d'habitants. Cette région n'existe pas sur le plan politique en Suisse mais réunit les populations dont la langue commune est le français. Elle recouvre les cantons de Genève, du Jura (à l'exception d'une petite commune germanophone, Ederswiler), de Neuchâtel et de Vaud et une partie des cantons de Berne, de Fribourg et du Valais.

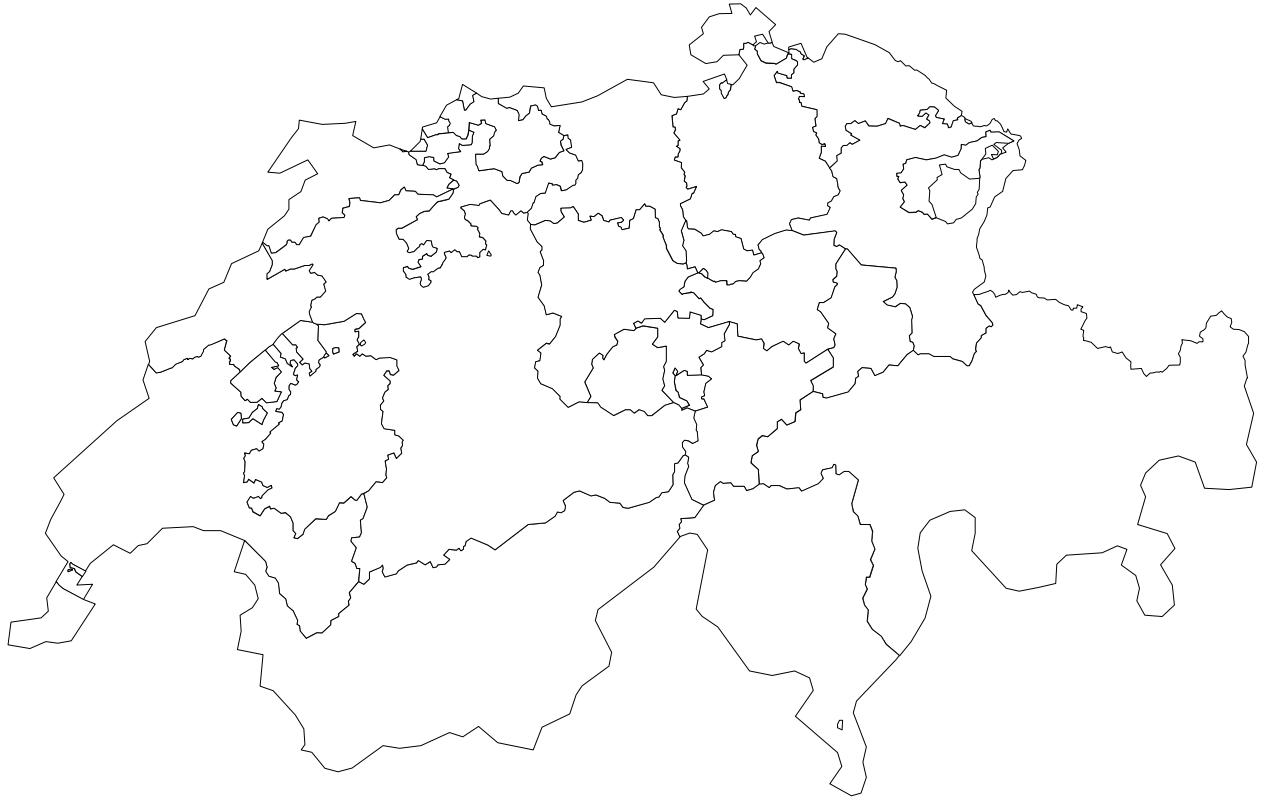
Les Suisses alémaniques appellent parfois les Romands, les *Welsches* et la Suisse romande, le Welschland. Le mot Welsch signifiant celte en vieil allemand. Il a ensuite été repris pour qualifier les peuples de langue romane dans les zones majoritairement francophones comme la Romandie (Welschland) ou encore la Belgique (wallon).

Source : Wikipedia.org

PRÉNOM _____

LE CANTON DE VAUD

1. *Colorie en jaune le canton de Vaud. Sois précis.*



2. *En quelle année le canton de Vaud est-il entré dans la Confédération Helvétique ?*

3. *Voici le drapeau du canton de Vaud. Colorie-le dans les couleurs appropriées.*

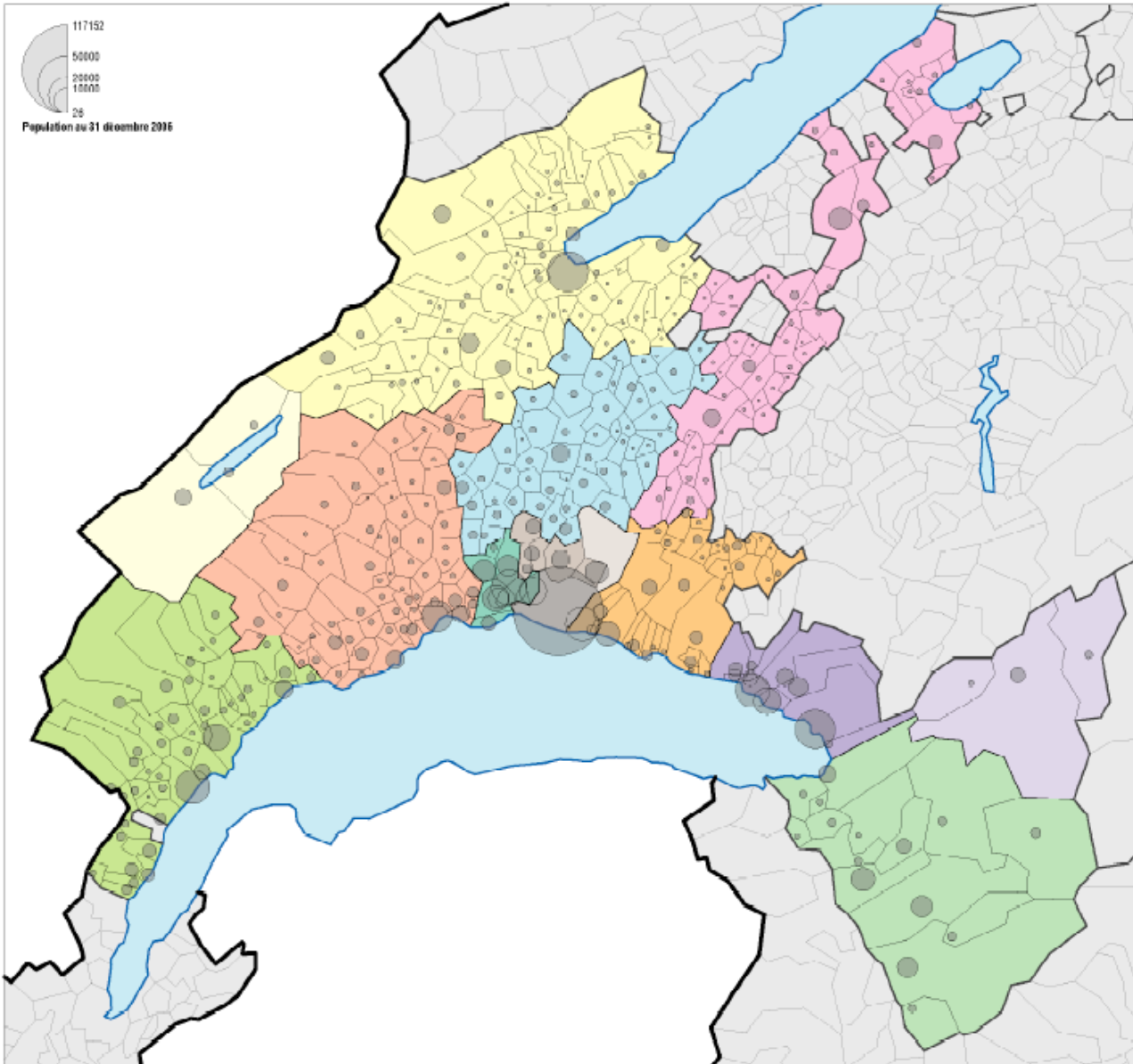


4. *Quel est le texte qui y est indiqué ?*

5. *Sur cette carte du canton de Vaud, indique les villes demandées.*

▲ Indique proprement les noms sur la carte.

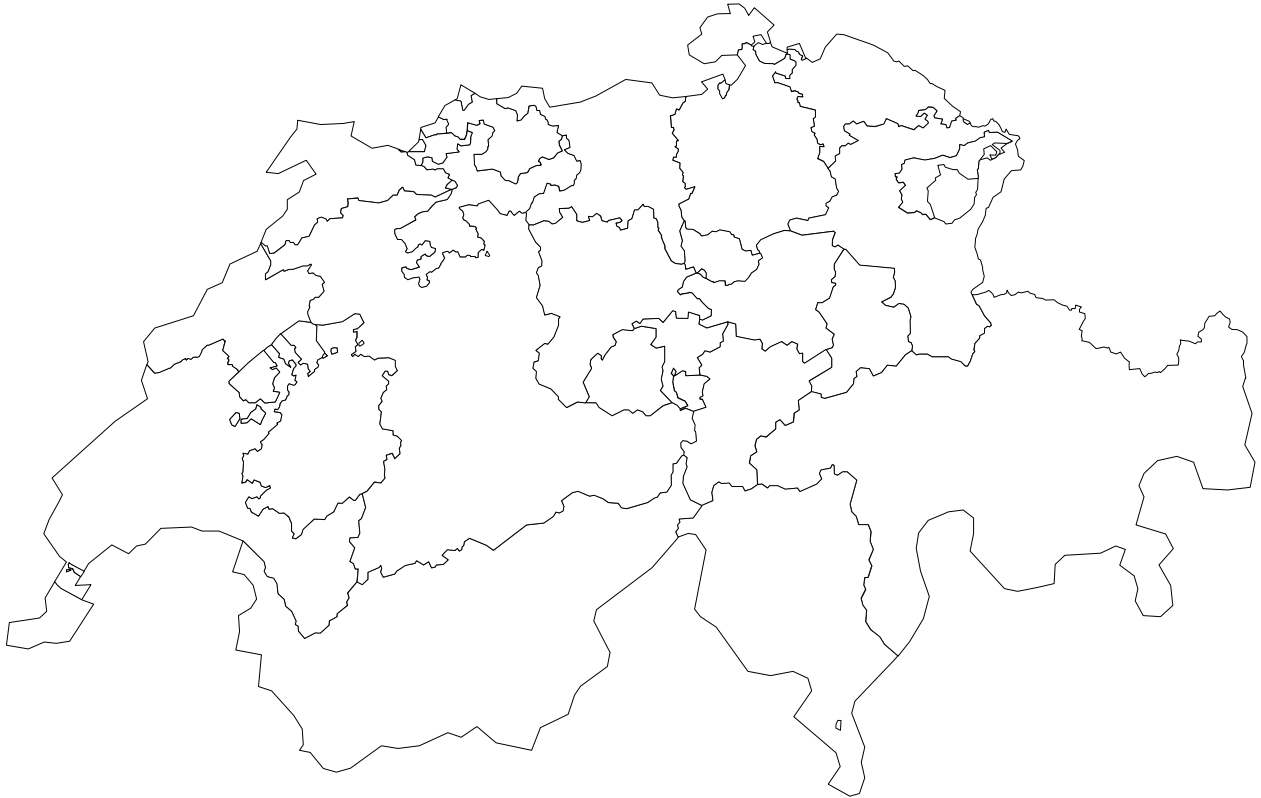
- Lausanne
- Yverdon
- Vevey
- Montreux
- Nyon
- Orbe
- Saint-Croix
- Aigle
- Payerne



PRÉNOM _____

CANTON DU VALAIS

1. *Colorie en rouge le canton du Valais. Sois précis.*



2. *Quand le canton du Valais est-il entré dans la Confédération Helvétique ?*

3. *Colorie précisément le drapeau du Valais.*

4. *Que représentent les étoiles du drapeau.*



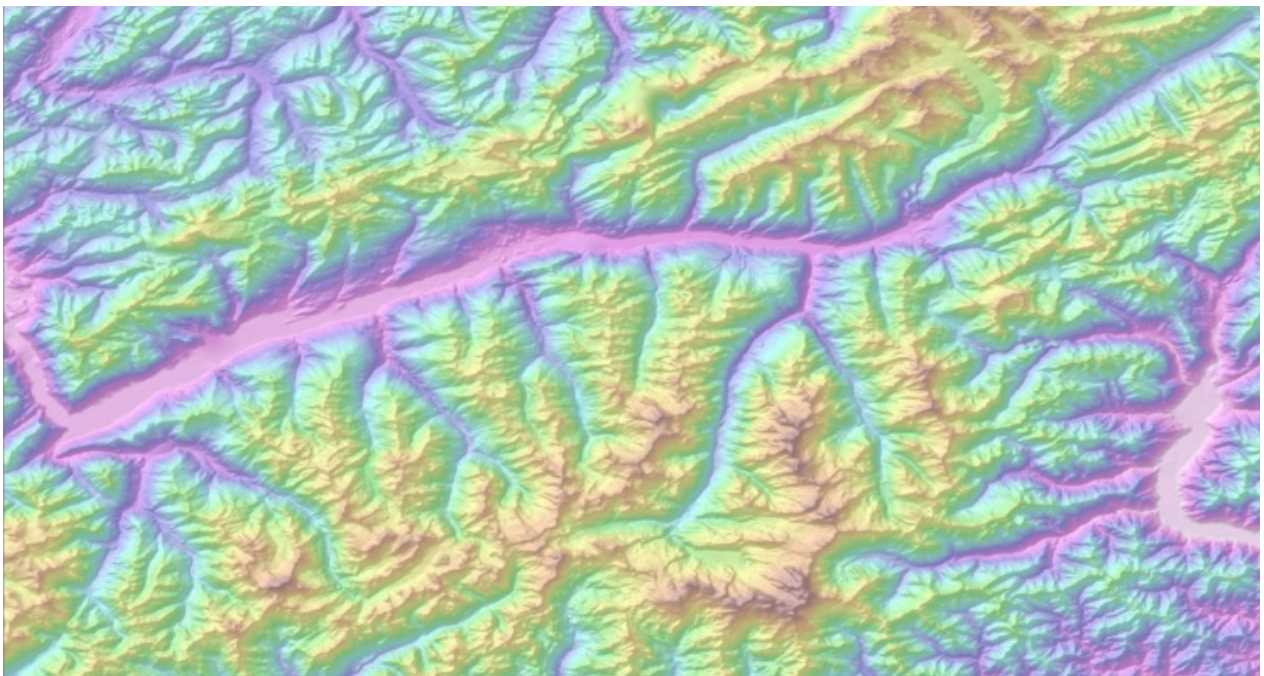
5. Sur cette carte, indique les villes et les vallées demandées.

Villes

- Martigny
- Sion
- Sierre
- Viège
- Brigue

Vallées

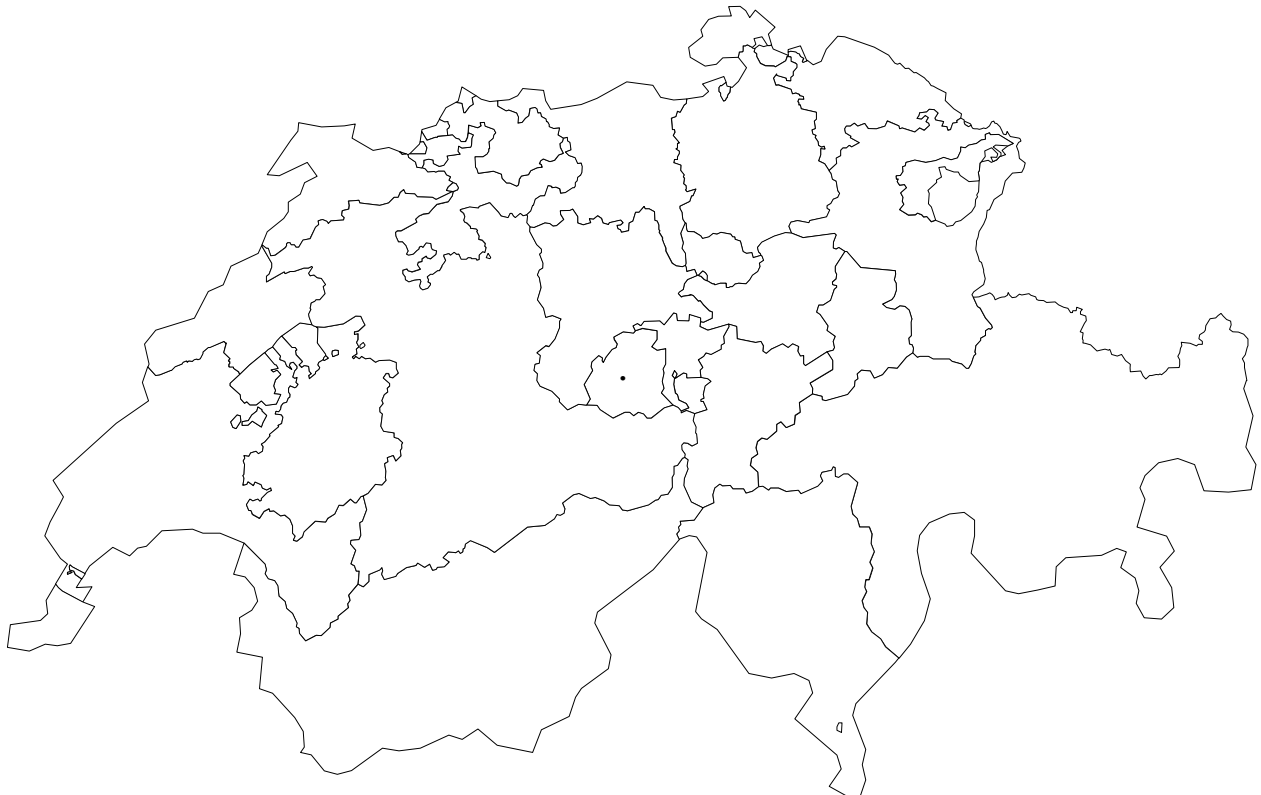
- Val d'Hérens
- Val d'Héremence
- Val d'Anniviers
- Vallée du Rhône



PRÉNOM _____

LE CANTON DE GENÈVE

1. *Colorie en rouge le canton de Genève.*



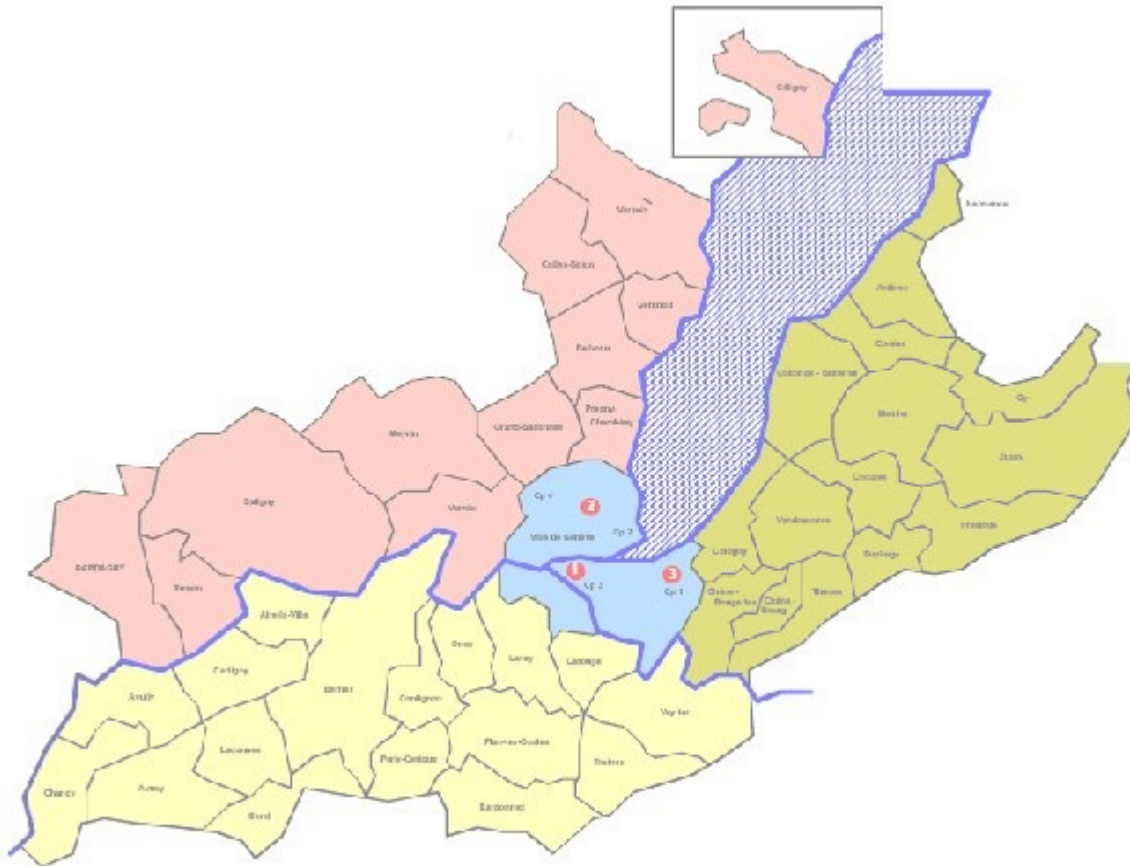
2. *En quelle année le canton de Genève est-il entré dans la Confédération Helvétique ?*

3. *Colorie le drapeau du canton de Genève.*



4. *Effectue les activités suivantes sur la carte :*

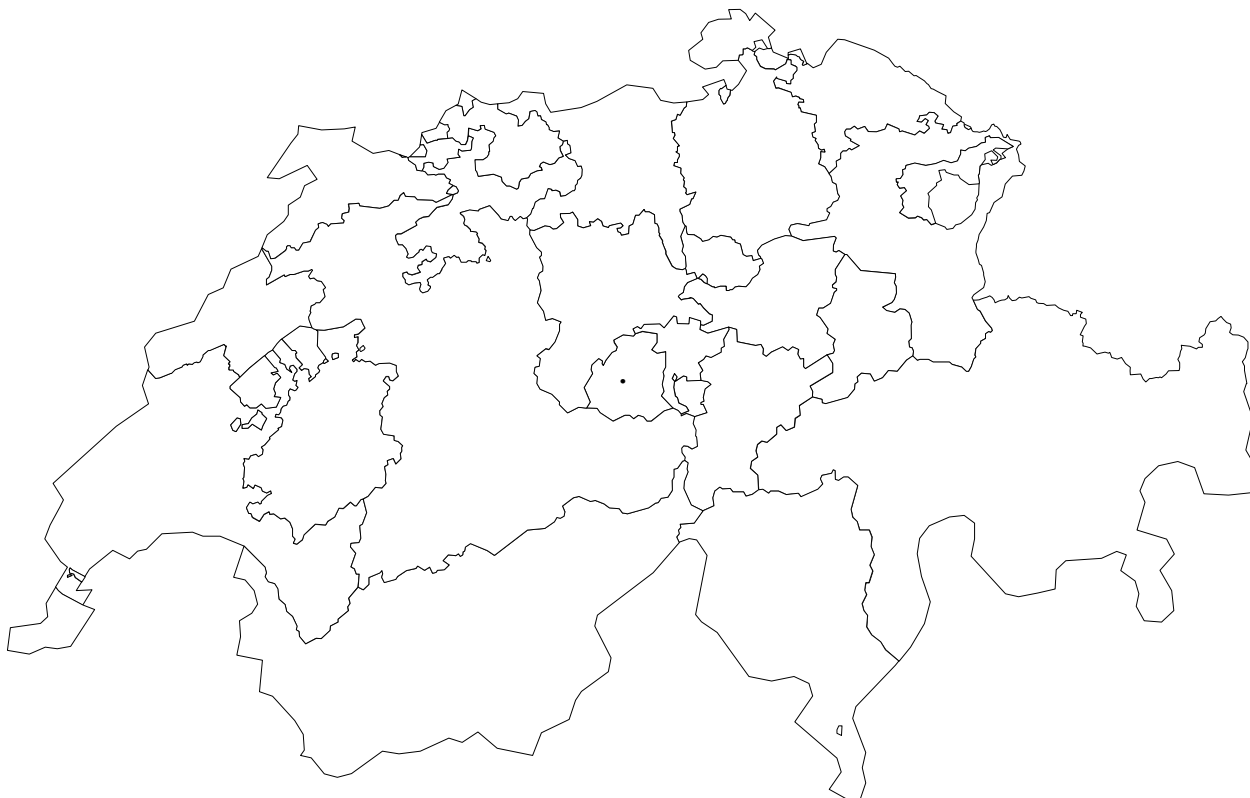
- Colorie en vert l'enclave Genevoise en territoire vaudois. Quel est son nom ? _____
- Colorie en bleu le Lac Léman.
- Repasse le Rhône en bleu.
- Colorie la ville de Genève en rouge.
- Situe la France sur la carte.



PRÉNOM _____

CANTON DE NEUCHÂTEL

1. *Colorie en vert le canton de Neuchâtel.*



2. *En quelle année le canton de Neuchâtel est-il entré dans la Confédération Helvétique ?*

3. *Colorie le drapeau du canton de Neuchâtel.*



4. *Effectue les activités suivantes sur la carte :*

Indique les 4 points cardinaux (N, E, S, O).

▲ La carte n'est pas orientée au nord !

Surligne les villes suivantes :

- Neuchâtel
- Le Locle
- La Chaux-de-Fonds

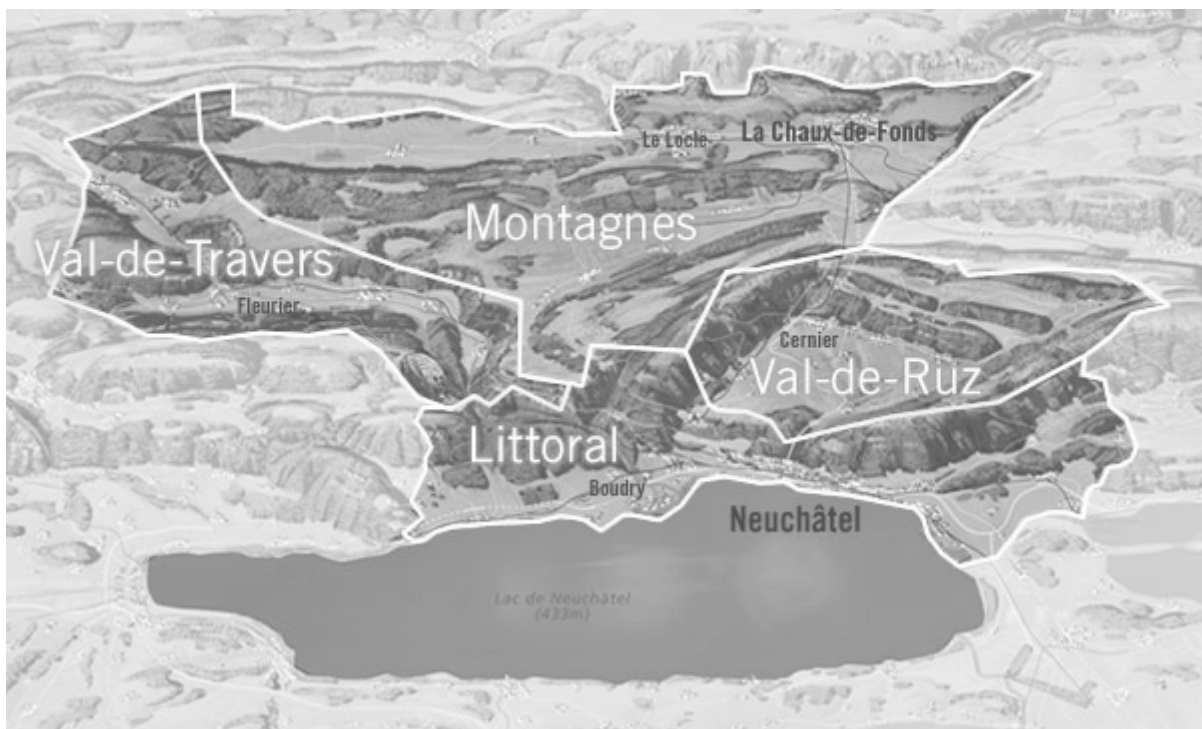
Colorie en bleu le lac de Neuchâtel.

Relève les 4 régions importantes du canton.

1. _____
2. _____
3. _____
4. _____

Indique les régions limitrophes suivantes :

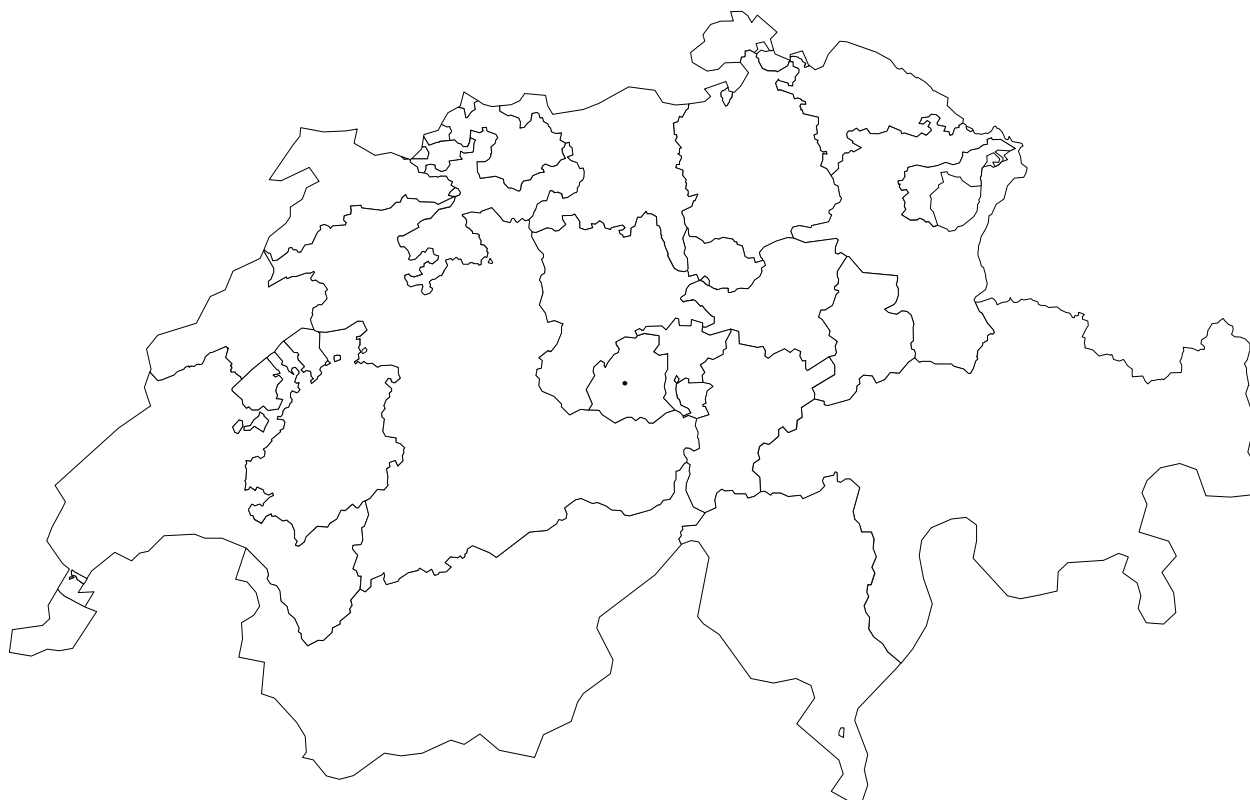
- Canton de Vaud
- Canton du Jura
- Canton de Berne
- Canton de Fribourg
- France



PRÉNOM _____


CANTON DE FRIBOURG

1. *Colorie en gris le canton de Fribourg.*



2. *En quelle année le canton de Fribourg est-il entré dans la Confédération Helvétique ?*

3. *Colorie le drapeau du canton de Fribourg.*



4. *Sur la carte, repère les éléments suivants.*

Villes

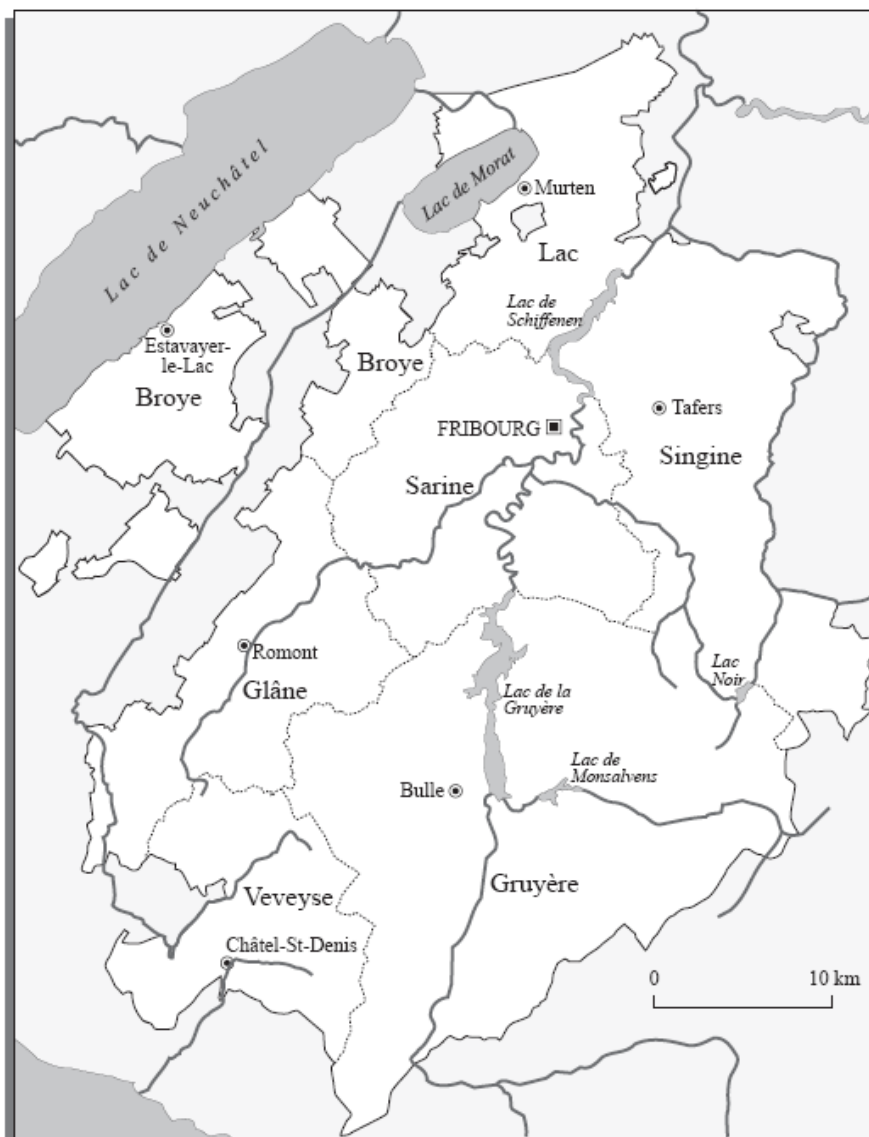
- Fribourg
- Châtel-Saint-Denis
- Estavayer-le-Lac
- Bulle
- Romont

Lacs

- Colorie en bleu les lacs (lac de Neuchâtel, lac de Morat, lac de Gruyère, lac de Montsalvens)

Canton de Vaud

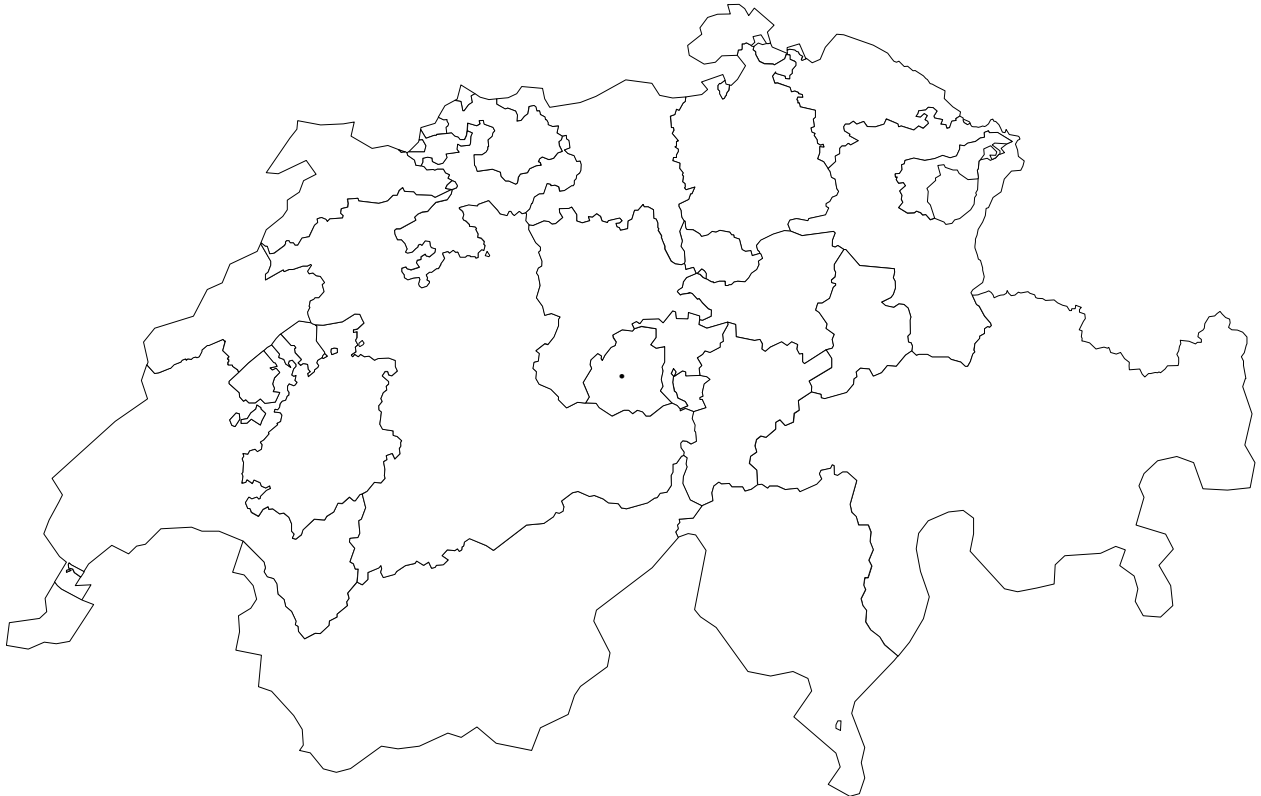
- Colorie en jaune les parties du canton de Vaud visibles sur cette page.



PRÉNOM _____

CANTON DU JURA


1. *Colorie en orange le canton du Jura.*



2. *Depuis quand le canton du Jura fait-il partie de la Confédération Helvétique ?*

3. *À la différence des autres cantons, ce canton n'a jamais été indépendant avant d'entrer dans la Confédération Helvétique. Pourquoi ?*

3. *Colorie le drapeau du canton du Jura.*



4. Sur cette carte, surligne les villes demandées.

- Delémont
- Porrentruy
- Saignelégier



<i>Canton</i>	<i>Chef-lieu</i>	<i>Entrée en CH</i>	<i>Initiales</i>
Vaud			
Valais			
Genève			
Neuchâtel			
Fribourg			
Jura			
Berne			

Remarque : Le canton de Berne, majoritairement germanophone, n'a pas été étudié en détail dans ce document. Il le sera lors de l'étude des autres cantons de la Suisse.