

PRÉNOM \_\_\_\_\_  
DATE \_\_ / \_\_ / \_\_

NIVEAU 5-6

TYPE ACT

CAT CH

Suisse | Les cantons



# FAISONS PLUS AMPLE CONNAISSANCE ...

Afin de connaître un peu plus *à fond* les cantons suisses, tout en t'exerçant à **retrouver des informations**, voici un dossier complet comprenant :

7 pages recto-verso de documents

Un document de recherche d'informations

## OBJECTIFS ...

Connaître un peu plus en profondeur les différents cantons qui forment notre pays (géographie, histoire, particularités, ...).

S'entraîner à comprendre des questions et à trouver les informations qui correspondent.

Préparer de futures activités de géographie, basées sur les recherches et les trouvailles contenues dans ces documents.

## MODALITÉS ...

Travail individuel ou par groupe de 2 (un document à remettre) ... ▲ Participation obligatoire et efficace de chacun ...

Mise en commun des résultats obtenus et discussion de ceux-ci par « 2 groupes ».

Mise en commun générale.

① *Si c'est nécessaire, tu peux rechercher un détail sur les affiches de la classe ... Elles sont plus grandes et en couleur : cela peut t'aider pour les questions de précision ou simplement si tu n'arrives pas à voir l'information dans tes documents.*

# A PROPOS DES INFORMATIONS ...


I1. La plupart des informations ont été tirées du même référentiel. Lequel ?


---


I2. En dessous de chaque drapeau se trouvent des noms. De quoi s'agit-il ?

---

I3. Que signifient les sigles suivants :

 \_\_\_\_\_

 \_\_\_\_\_

 \_\_\_\_\_

 \_\_\_\_\_

 \_\_\_\_\_

 \_\_\_\_\_

## VOCABULAIRE

V4. Dans ces documents, tu trouveras plusieurs mots dont le sens t'échappe ou que tu ne pourrais pas expliquer. Ecris-les ci-dessous et note leur explication.

① Utilise les outils à ta disposition en classe (dictionnaire personnel, dictionnaire de l'enseignant, encyclopédie).

\_\_\_\_\_ : \_\_\_\_\_

\_\_\_\_\_ : \_\_\_\_\_

\_\_\_\_\_ : \_\_\_\_\_

\_\_\_\_\_ : \_\_\_\_\_

\_\_\_\_\_ : \_\_\_\_\_

① Si c'est nécessaire, utilise une page vierge pour inscrire d'autres mots.

PRÉNOM \_\_\_\_\_

# CLASSEMENTS

C5. Classe les différents cantons selon :

C5a. Leur ordre d'arrivée dans la Confédération Helvétique (ordre croissant)

① Si c'est nécessaire, fais d'abord un brouillon dans ton cahier de préparation.

<i>Ordre d'arrivée dans la Confédération Helvétique</i>		
	<i>Date</i>	<i>Nom du canton</i>



PRÉNOM \_\_\_\_\_

C5s. Leur superficie (ordre décroissant)

① Si c'est nécessaire, fais d'abord un brouillon dans ton cahier de préparation.

Superficie		
	Superficie (en km <sup>2</sup> )	Nom du canton



PRÉNOM \_\_\_\_\_

# HISTOIRE SUISSE EN GÉNÉRAL ET DES CANTONS EN PARTICULIER

H6. Trois cantons ont été divisés en 2 au cours de l'histoire de Suisse. Relève leur nom et indique en quelques mots pour quelle raison ils ont été séparés.

---

---

---

---

---

---

---

H7. Le statut des demi-cantons actuellement ... Sont-ils considérés comme des cantons à part entière ou non ? Explique ta réponse.

oui       non

---

---

H8. Un canton ne s'est pas ajouté à la Confédération Helvétique, mais a été formé à partir de communes déjà suisses. Lequel ? Peux-tu expliquer pourquoi ce nouveau canton s'est formé ?

---

---

H9. Raconte en quelques mots ce qui s'est passé au Grütli.

---

---

H10. Quels sont les cantons fondateurs ? A l'origine, ils étaient 3, maintenant ils sont 4. Pourquoi ?

---

---

# TRACES DU PASSÉ - PATRIMOINE HISTORIQUE

T11. Vie de château ... Plusieurs châteaux te sont présentés dans ces documents. Releve leurs noms. Peux-tu trouver une explication à leur construction ?

---

---

---

T12. Le Lion de Lucerne retrace une partie sombre de l'Histoire de Suisse. Qu'en as-tu compris ?

---

---

---

T13. Que peux-tu dire du couvent d'Engelberg ?

---

---

---

## GÉOGRAPHIE DE LA SUISSE

Q14. Quelle a été la première capitale de la Suisse ?

---

Q15. Le canton du Valais a deux particularités sur le plan de sa géographie physique (son terrain). Lesquelles ?

---

---



PRÉNOM \_\_\_\_\_

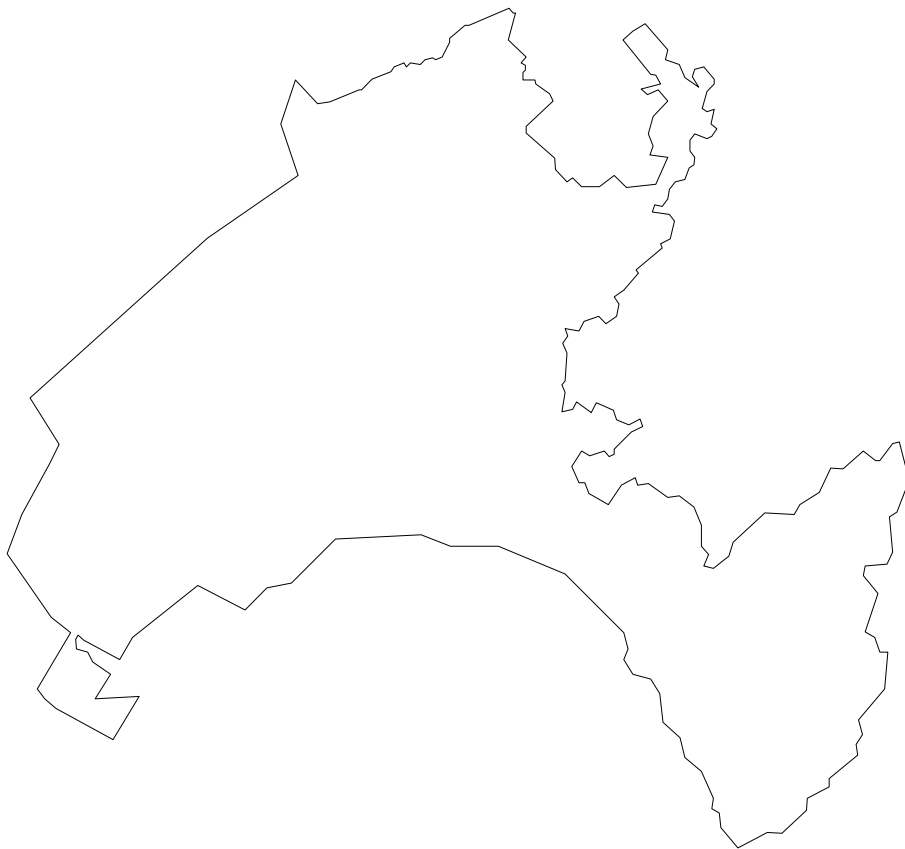
Q16. Pourquoi parle-t-on de district des 3 frontières dans la région bâloise ?

---

---

Q17. À partir des indications géographiques données pour le canton de Vaud, complète la carte.

① Indiques-y au moins quatre informations. Tu peux même compléter ta description par des éléments personnels (que tu connais avec certitude ou que tu as vérifiés avec un référentiel adéquat).



Q18. Colorie le canton de Saint-Gall en vert et indique les informations le concernant contenue dans les documents sur ce schéma.



19. Indique le nom de chaque canton sur la carte de la page suivante.

PRÉNOM \_\_\_\_\_



# POPULATION(S)

P20. Qu'est-ce que la *Landsgemeinde* ? Où la trouve-t-on encore aujourd'hui ?

---

---

P21. Plusieurs cantons ont accueillis des réfugiés religieux au cours de l'histoire de la Suisse. Deux d'entre eux sont mentionnés dans les documents. Lesquels ? En connais-tu d'autres ?

---

---

P22. Quelles sont les origines du suisse allemand et le romanche ?

---

---

## VRAI OU FAUX ...

23. Coche la case adéquate.

① Lis attentivement toute la phrase et réfléchis attentivement. Relis en profondeur le document concerné si nécessaire.

### VRAI FAUX


- |                          |                          |  |
|--------------------------|--------------------------|--|
| <input type="checkbox"/> | <input type="checkbox"/> | Le canton de Glaris ne compte aucune ville.  |
| <input type="checkbox"/> | <input type="checkbox"/> | Le drapeau suisse est resté inchangé depuis 1291.  |
| <input type="checkbox"/> | <input type="checkbox"/> | Le canton d'Appenzell a été partagé en raison de différences économiques.  |
| <input type="checkbox"/> | <input type="checkbox"/> | Le canton d'Argovie est situé au pied du Jura (chaîne montagneuse).  |
| <input type="checkbox"/> | <input type="checkbox"/> | L'agglomération bâloise déborde sur les frontières françaises et allemandes.   |
| <input type="checkbox"/> | <input type="checkbox"/> | La place fédérale se trouve dans le canton de Vaud.  |
| <input type="checkbox"/> | <input type="checkbox"/> | Le drapeau fribourgeois a réellement et de manière certaine pris ses couleurs à cause de l'aventure d'un duc du XII <sup>e</sup> siècle. |
| <input type="checkbox"/> | <input type="checkbox"/> | Des moines de Cluny (F) ont fondé l'abbaye de Bevaix (NE).   |
| <input type="checkbox"/> | <input type="checkbox"/> | Farel a chassé les huguenots de Neuchâtel.   |
| <input type="checkbox"/> | <input type="checkbox"/> | La séparation du canton d'Unterwald n'est que le retour à une situation géopolitique <sup>1</sup> plus ancienne.                         |

<sup>1</sup> Géographique et politique, ou de géographie politique, c'est-à-dire qui concerne l'intervention de l'homme sur la délimitation des territoires et leur administration.

PRÉNOM \_\_\_\_\_

- Le canton de Schaffhouse a été bombardé pendant la guerre parce qu'il était allemand.
- Wollerau est le chef-lieu du canton de Schwytz.
- Soleure est la plus belle ville baroque de la Suisse.
- Le territoire du canton du Tessin a appartenu aux villes de Rome, de Côme et de Milan durant l'histoire.
- Le canton de Thurgovie doit son nom à la Thur qui est une petite chaîne de montagnes.
- Le Cervin (Matterhorn) est le plus haut sommet suisse.
- Les vignobles de Lavaux se trouvent dans le canton de Neuchâtel.
- Zoug est à la fois le nom d'un canton, d'une ville et d'un lac.
- Zurich est le canton le plus grand et le plus peuplé.
- Les « Rhodes Intérieures » du canton d'Appenzell sont catholiques.





## CORRECTIF PARTIEL

I1. La plupart des informations ont été tirées du même référentiel. Lequel ?

Le site internet [www.wikipedia.org](http://www.wikipedia.org)

I2. En dessous de chaque drapeau se trouvent des noms. De quoi s'agit-il ?

Le nom du canton dans la (les) langue(s) parlée(s) autre(s) que le français.

I3. Que signifient les sigles suivants :

 Chef-lieu / Capitale

 Initiales

 Langues parlées

 Date d'adhésion ou de création

 Population

 Chef-lieu ou capitale

C5. Classe les différents cantons selon :

C5a. Leur ordre d'arrivée dans la Confédération Helvétique (ordre croissant)

① Si c'est nécessaire, fais d'abord un brouillon dans ton cahier de préparation.

Ordre d'arrivée dans la Confédération Helvétique		
	Date	Nom du canton
	1291	Nidwald
	1291	Obwald
	1291	Schwytz
	1291	Uri
	1332	Lucerne
	1351	Zurich
	1352	Glaris
	1352	Zoug
	1353	Berne
	1481	Fribourg

## Ordre d'arrivée dans la Confédération Helvétique


	<i>Date</i>	<i>Nom du canton</i>
	1481	Soleure
	1501	Bâle campagne
	1501	Bale Ville
	1501	Schaffhouse
	1513	Appenzell rhodes extérieures
	1513	Appenzell rhodes intérieures
	1803	Argovie
	1803	Grisons
	1803	Saint-Gall
	1803	Tessin
	1803	Thurgovie
	1803	Vaud
	1815	Genève
	1815	Neuchâtel
	1815	Valais
	1979	Jura (création)

### C5h. Leur nombre d'habitants (ordre décroissant)

① Si c'est nécessaire, fais d'abord un brouillon dans ton cahier de préparation.

	<i>Nombre d'habitants</i>	<i>Nom du canton</i>
	1 228 600	Zurich
	947 100	Berne
	626 200	Vaud
	550 900	Argovie
	452 600	Saint-Gall
	414 300	Genève
	350 600	Lucerne
	311 900	Tessin
	278 200	Valais
	261 400	Bâle Campagne
	245 500	Soleure
	239 100	Fribourg





	<b>Nombre d'habitants</b>	<b>Nom du canton</b>
	228 200	Thurgovie
	186 700	Bâle Ville
	185 700	Grisons
	166 500	Neuchâtel
	131 400	Schwytz
	100 900	Zoug
	73 400	Schaffhouse
	69 100	Jura
	53 200	Appenzell rhodes extérieures
	38 600	Nidwald
	38 300	Glaris
	35 000	Uri
	32700	Obwald
	15 000	Appenzell rhodes intérieures
		<b>Total</b>

### C5s. Leur superficie (ordre décroissant)

① Si c'est nécessaire, fais d'abord un brouillon dans ton cahier de préparation.

<b>Superficie</b>		
	<b>Superficie (en km<sup>2</sup>)</b>	<b>Nom du canton</b>
	7 105	Grisons
	5 959	Berne
	5 224	Valais
	3 212	Vaud
	2 812	Tessin
	2 026	Saint-Gall
	1 729	Zurich
	1 671	Fribourg
	1 493	Lucerne
	1 404	Argovie

<b>Superficie</b>		
	<b>Superficie (en km<sup>2</sup>)</b>	<b>Nom du canton</b>
	1 077	Uri
	991	Thurgovie
	908	Schwytz
	838	Jura
	803	Neuchâtel
	791	Soleure
	685	Glaris
	518	Bâle Campagne
	491	Obwald
	298	Schaffhouse
	282	Genève
	276	Nidwald
	243	Appenzell rhodes extérieures
	239	Zug
	173	Appenzell rhodes intérieures
	37	Bâle Ville
		<b>Total</b>

## C5L. Les langues parlées

① Si c'est nécessaire, fais d'abord un brouillon dans ton cahier de préparation.

<b>Langues parlées dans la Confédération Helvétique</b>				
	<b>Allemand</b>	<b>Français</b>	<b>Italien</b>	<b>Romanche</b>
	Nidwald			
	Obwald			
	Schwytz			
	Uri			
	Lucerne			
	Zurich			
	Glaris			
	Zoug			
	Berne	Berne		
	Fribourg	Fribourg		

PRÉNOM \_\_\_\_\_

Langues parlées dans la Confédération Helvétique				
	Allemand	Français	Italien	Romanche
	Soleure			
	Bâle campagne			
	Bale Ville			
	Schaffhouse			
	Appenzell rhodes extérieures			
	Appenzell rhodes intérieures			
	Argovie			
	Grisons		Grisons	Grisons
	Saint-Gall			
			Tessin	
	Thurgovie			
		Vaud		
		Genève		
		Neuchâtel		
	Valais	Valais		
		Jura		
<b>Total</b>	<b>21</b>	<b>7</b>	<b>2</b>	<b>1</b>

H6. Trois cantons ont été divisés en 2 au cours de l'histoire de Suisse. Releve leur nom et indique en quelques mots pour quelle raison ils ont été séparés.

Bâle → Bâle Ville + Bâle Campagne : raisons économiques

Appenzell → Appenzell rhodes intérieures + Appenzell rhodes extérieures : raisons religieuses

Unterwald → Nidwald + Obwald : raisons historiques + géographiques

H7. Le statut des demi-cantons actuellement ... Sont-ils considérés comme des cantons à part entière ou non ? Explique ta réponse.

Oui, la notion de demi-canton a été retirée de la Constitution en 1899.

Non, ils sont encore considérés comme des demis cantons et n'ont qu'une demi voix au niveau politique.