

PRÉNOM _____
 DATE __ / __ / __

NIVEAU 5-6

TYPE ACT

CAT CH

Introduction à la Suisse



INTRODUCTION À LA SUISSE

LA SUISSE EN EUROPE

La Suisse a une superficie de _____ km².

Compare la superficie de la Suisse à celle de ses voisins.

Allemagne (D)

_____ km²
 (environ _____ x la Suisse)

Autriche (A)

_____ km²
 (environ _____ x la Suisse)

France (F)

_____ km²
 (environ _____ x la Suisse)

Lichtenstein (FL)

_____ km²
 (environ _____ x la Suisse)

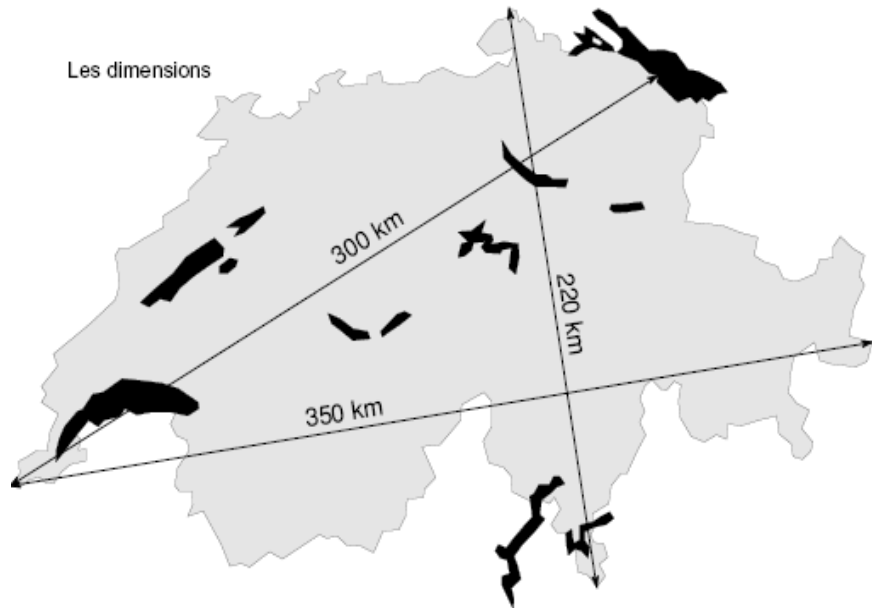
Italie (I)

_____ km²
 (environ _____ x la Suisse)



LES DISTANCES MAXIMALES EN SUISSE

Les dimensions

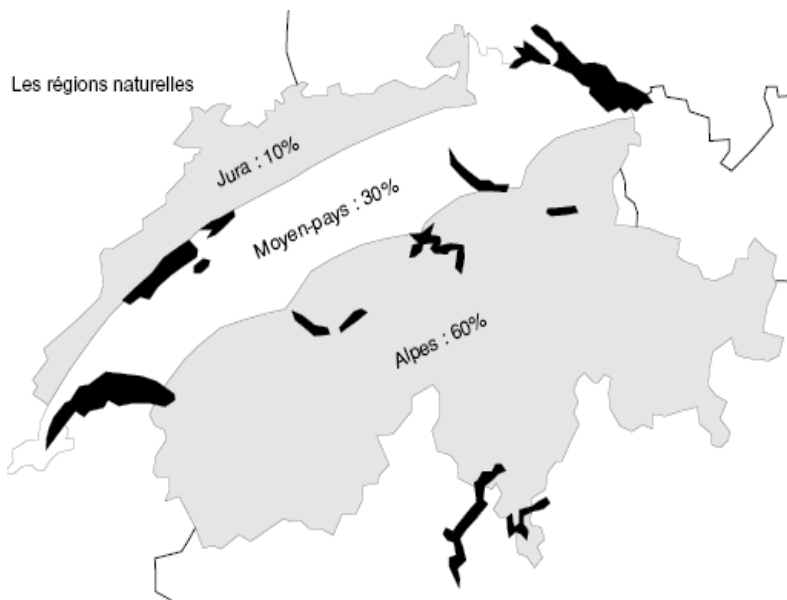


La distance ouest-est maximale est de _____ km et relie à vol d'oiseaux _____ à _____.

La distance nord-sud maximale est de _____ km et relie à vol d'oiseaux _____ à _____.

LES RÉGIONS NATURELLES

Les régions naturelles



La Suisse est découpée en 3 régions naturelles :

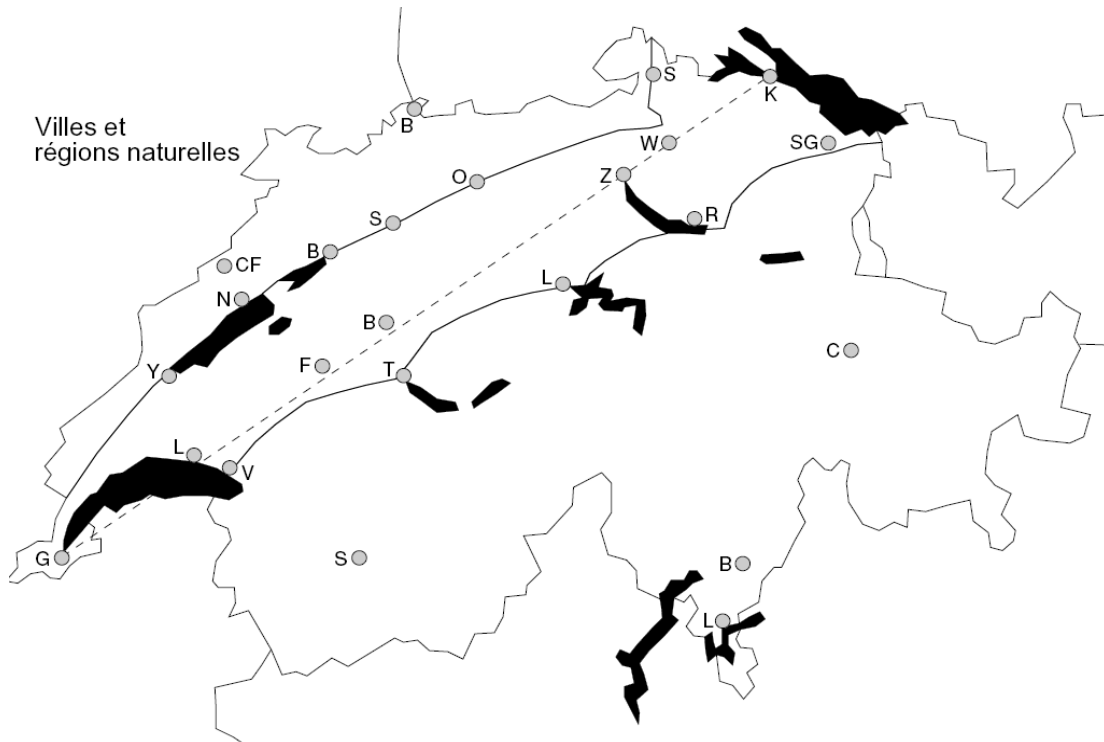
- le _____ est une zone montagneuse de faible altitude. Cette zone commence à _____ et se poursuit jusqu'à _____ formant ainsi la frontière _____ de la Suisse
- le _____, aussi appelé _____ est une zone de

plaine. C'est dans cette région que l'on trouve le plus d'_____ et d'_____.

PRÉNOM _____

- les _____, chaîne montagneuse qui occupent _____ du territoire de la Suisse. Son relief offre peu de possibilités d'_____ et de _____.

Trouve le nom d'un maximum de villes de cette carte.



Source : Document repris sur le site de l'université de Genève