

Figures planes




Reconnaître, décrire et nommer des figures planes selon leurs propriétés




RÉVISION : reconnaître et nommer

- ☐ Carré, rectangle ou non, fiche 3


1. Traits parallèles




- ☐ Traits parallèles (FCC 1)
- ☐ Vous avez dit parallèles ? fiches 5-6



- ☐ Parallèles ou non ? fiches 17-18
- ☐ Où sont les côtés parallèles ?, fiche 19
- ☐ Sept traits, fiche 20




- Avec des bandes, fiche 4



- Le cercle, fiches 7

2. Angles droits

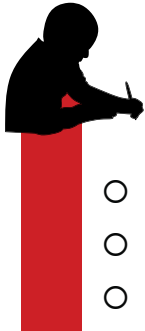


- Où sont les angles droits ? Fiche 9
- Dessine les axes, fiche 21
- Losanges, fiche 22
- Figures composées, fiche 23
- Qui suis-je ? fiches 24-25

3. Cercle



- Cercles, fiches 27-28



Problèmes

- Rectangles et carrés, fiche 37
- Triangles à découvrir, fiche 39
- Quelles couleurs ? fiche 41

Je suis capable de :	Reconnaître	Décrire	Nommer	Donner les propriétés
Carré	<input type="checkbox"/>	<input type="checkbox"/>	<input type="checkbox"/>	<input type="checkbox"/>
Rectangle	<input type="checkbox"/>	<input type="checkbox"/>	<input type="checkbox"/>	<input type="checkbox"/>
Losange	<input type="checkbox"/>	<input type="checkbox"/>	<input type="checkbox"/>	<input type="checkbox"/>
Triangle	<input type="checkbox"/>	<input type="checkbox"/>	<input type="checkbox"/>	<input type="checkbox"/>
Triangle rectangle	<input type="checkbox"/>	<input type="checkbox"/>	<input type="checkbox"/>	<input type="checkbox"/>
Cercle	<input type="checkbox"/>	<input type="checkbox"/>	<input type="checkbox"/>	<input type="checkbox"/>



J'ai tout compris.



Je n'ai pas tout
à fait compris.



Je n'ai pas compris.